

6. На нашей планете есть только одно государство, расположенное сразу в Северном, Южном, Западном и Восточном полушариях. Это:

- a) Науру;
- b) Тонга;
- + в) Тувалу;
- г) Кирибати;

7. Выберите вариант, в котором указаны два штата США с наибольшим объемом добычи нефти:

- a) Иллинойс, Мичиган;
- b) Миссисипи, Нью-Йорк;
- + в) Техас, Аляска;
- г) Луизиана, Массачусетс;

8. Холодный сильный порывистый ветер с гор к теплому морю называется:

- a) фен;
- + б) циклон;
- в) муссон;
- г) бора;

9. Какого субъекта Российской Федерации не существует?

- а) Пермская область;
- + б) Республика Тыва;
- в) Владимирская область;
- г) Ненецкий автономный округ;

10. Выберите из списка самый северный город-миллионер в мире.

- a) Монреаль;
- b) Осло;
- + в) Пермь;
- г) Санкт-Петербург;

11. Укажите страну с наибольшей рождаемостью населения (в %):

- а) Польша;
- б) Китай;
- + в) Мали;
- г) Монголия;

12. Наименьшее по площади озеро

- а) Ильмень;
- б) Ладожское;
- + в) Онежское;
- г) Селенгер;

13. В каком варианте сочетание страна - морской порт, который в ней находится, неверно?

- а) Республика Корея - Пусан;
- + б) Франция - Марсель;
- в) США - Сياتл;
- г) Индия - Карачи;

14. В каком городе в июле выпадает больше всего осадков?

- а) Багдад;
- + б) Барселона;
- в) Бирмингем;
- г) Бомбей (Мумбаи);

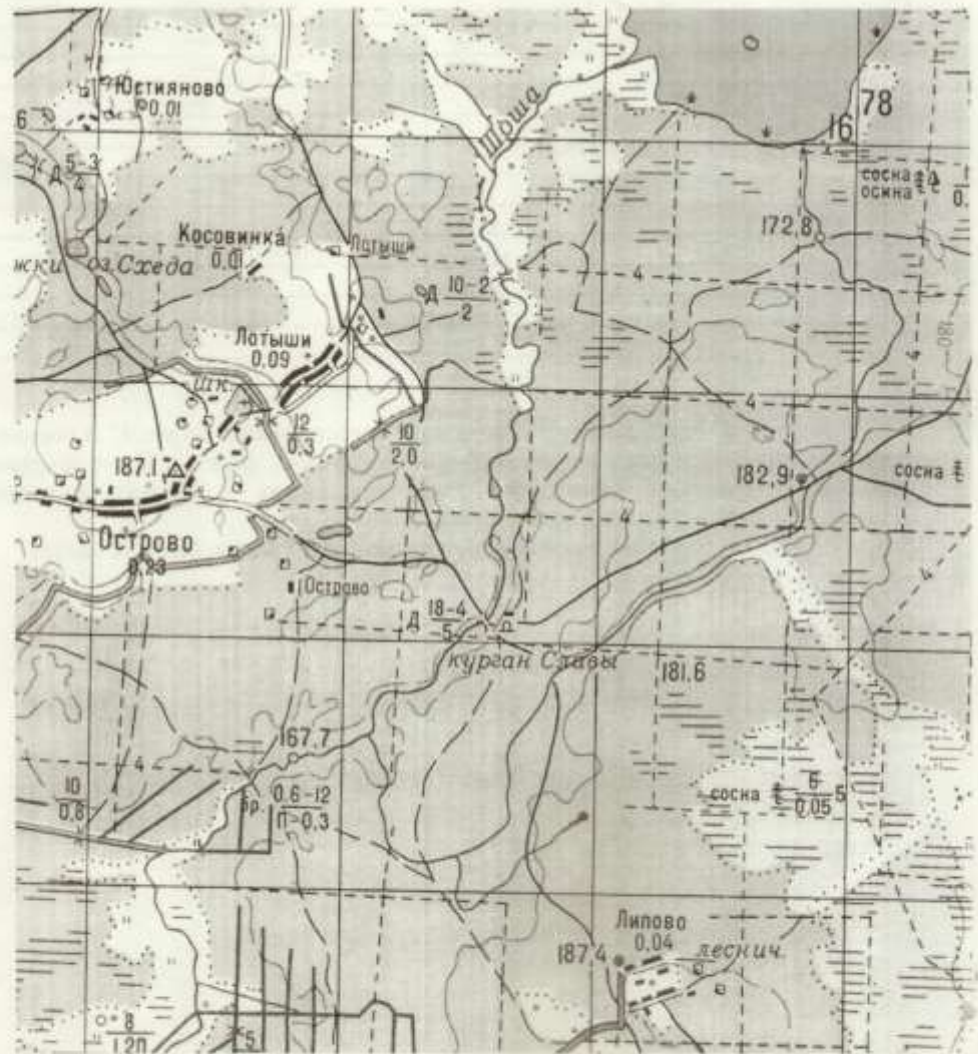
15. В Мюнхене производят автомобили марки:

- а) Audi;
- б) BMW;
- в) Mercedes-Benz;
- г) Volkswagen;

мар-150
ж работы-148

10 класс Теоретический тур

Задание 1. Путешествуя по Беларуси, Вы с товарищами решили посетить памятные места, связанные с боевыми действиями 1-й партизанской бригады имени А.В. Суворова – курган Славы на левом берегу реки Шоша и небольшой музей в школе в деревне Острово. До деревни Липово, вашу группу довели члены команды «МАЗ-СПОРТавто», совершающие пробег на полноприводных автомобилях МАЗ 6317х5-470-000 (полная масса автомобиля в снаряжённом состоянии 11400 кг, ширина 2,55 м, длина 9,5 м, высота тах по колёсам 1,32 м). Слушая ваши рассказы о действиях партизанской бригады, члены команды «МАЗ-СПОРТавто» решили на своих автомобилях захватить в деревню Острово. Ориентируясь по карте, выберите для них место, в котором они смогут на своих машинах пересечь реку Шоша, чтобы попасть из деревни Липово в деревню Острово. Объясните свой выбор.



Задание 2. Решите логическую задачу.

Эмомали, Ислам, Нурсултан, Алмазбек, Гурбангулы – пятеро друзей, проживающие в разных странах Центральной Азии и имеющие такие же имена и фамилии, как и у президентов их стран, живут в городах Хорог, Шымкент, Нукус, Каракол и Дашогуз. Каждый расплачивается в магазинах городов валютой своих государств: сомони, сум, тенге, сом и манат. Ислам и Гурбангулы живут не в Хороге, Алмазбек – не в Шымкенте, Нурсултан – не в Дашогузе. Житель Каракола расплачивается сомом, житель Нукуса – не расплачивается манатом, житель Шымкента не имеет в кармане ни одного сума, Эмомали – не проживает в Нукусе, Нурсултан никогда не был в Хороге, житель Дашогуза не расплачивается сомони и это не Ислам. В каком городе проживает каждый из друзей? (заполните табл. 1. при помощи знаков «+» и «-»). Назовите государства, где проживают друзья, а также валюту и фамилии президентов этих стран (табл. 2).

Таблица 1.

	Хорог	Шымкент	Нукус	Каракол	Дашогуз
Эмомали	+ +	-	-	-	-
Ислам	-	+ -	-	-	-
Нурсултан	-	-	+ -	-	-
Алмазбек	-	-	-	+ +	-
Гурбангулы	-	-	-	-	+ +

Таблица 2

	Государство	Валюта	Фамилия президента
Эмомали		сом	
Ислам		тенге	
Нурсултан		сомони	
Алмазбек		манат	
Гурбангулы		сум	

96

Задание 3. Как называется сооружение, представленное на рис.1? В составе каких промышленных объектов мы их, как правило, можем видеть? Какие функции они выполняют? Напишите химическую формулу вещества – главного составляющего «дыма», поднимающегося над такой трубой.

За правильный ответ на каждый из вопросов по 2,5 балла. Всего 10 баллов.











Рис. 1.

Задача 4. В современном мире существуют непризнанные и частично признанные государства. В таблице даны некоторые сведения по таким государствам, но необходимо заполнить пропуски в таблице.

Флаг	Название	Статус (непризнано/ частично признано)	Столица	Язык (и)	Занимает де-юре территорию страны/ Претендуюц ее на территорию государство
		Непризнано	Вана	Пушту	Пакистан
	Абхазия	Частично признано	Сухум	Абхазски й и русский	Грузия
	Азад Кашмир	Частично признано	Музаффараба д		Индия
	Нагорно- Карабахская Республика	Непризнано		Армянски й	Азербайджан
	Китайская	Частично	Тайбэй	Китайски	Китайская

2		Республика (о. Тайвань)	признано		й	Народная Республика
		Государство Палестина	Частично признано	<i>Ген-Авив</i>	Арабский	Израиль
		Турецкая Республика Северного Кипра	Частично признано		Турецкий	Республика Кипр
	<i>27 +</i>	Государство Шан	Непризнано	Таунджи	Шанский	
		Республика Южная Осетия	Частично признано	Цхинвал	<i>сестинский, среднотерский, русский</i>	Грузия
1.		2.		3.		

20

маж - 550

на работу - 350

63%

II м

Теоретический тур

102

1. Спартеино из древесины Листвен в древесно Волово можно показать
две пути: через Брод и через шест, который находится
возле кургана Саво. Но «МАЗ-СПОРТавто» имеет
сразу больше (более 117), чем можно выдержать шест (57)
Глубина Брода меньше, чем высота колес. Значит, они опираются
шестом покат в древесно Волово через Брод. 60.

3. На рисунке представлена окислительная реакция.
Она окисляет пар воды. В составе ГЭС, ТЭС,
формула вещества - H_2O 100

Всероссийская олимпиада школьников по географии. Школьный тур.

10 класс. 2016-17 учебный год.

Продолжительность олимпиады – 2 академических часа на выполнение письменных работ.

1 балл за задание

1. Назовите город Российской Федерации, долгота которого почти равна широте:

- а) Архангельск;
- б) Сыктывкар;
- в) Салехард;
- г) Мурманск;

2. Найдите правильное сочетание вершины и горной системы или хребтов:

- а) Белуха – хребет Черского;
- б) Ямантау – Южный Урал;
- в) Денежин Камень – плато Путорана;
- г) Муус-Хая – Корякское нагорье;

3. Укажите город, не стоящий на р. Иртыш:

- а) Усть-Каменогорск;
- б) Тобольск;
- в) Тюмень;
- г) Омск;

4. Выберите из приведенного перечня город, в котором имеется НПЗ:

- а) Краснодар;
- б) Армавир;
- в) Новороссийск;
- г) Ставрополь;

5. Киришская, Конаковская, Рефтинская электростанции созданы:

- а) на реках;
- б) в районах потребления, вблизи крупных городов;
- в) в районах добычи угля;
- г) в районах добычи газа;